



<b>Concurso:</b> Processo Seletivo Simplificado nº 001/2021	<b>Município:</b> Cidade Gaúcha/PR
<b>Cargo:</b> Nível FUNDAMENTAL -	<b>Nº de Questões:</b> 20

## Língua Portuguesa

### Texto F-01

E, quando você quer alguma coisa, todo o Universo conspira para que você realize seu desejo.

O Alquimista, Paulo Coelho, p. 39.

**1.** Identifique no **texto F-01** todos os vocábulos pertencentes à classe gramatical VERBO e assinale a única alternativa que contempla todos os verbos do texto.

- A) quando; desejo.
- B) quando; alguma; conspira.
- C) conspira; realize.
- D) quer; Universo; desejo.
- E) quer; conspira; realize.

**2.** Coloque em ordem alfabética as seguintes palavras, que foram retiradas do **texto F-01**:

COISA | ALGUMA | UNIVERSO | DESEJO |  
REALIZE

- A) Alguma | coisa | desejo | realize | universo.
- B) Coisa | alguma | universo | desejo | realize.
- C) Universo | alguma | desejo | coisa | realize.
- D) Desejo | coisa | realize | universo | alguma.
- E) Alguma | coisa | desejo | universo | realize.

**3.** Releia o **texto F-01**.

Quais sinais de pontuação foram usados nesse trecho?

- A) Somente ponto final.
- B) Ponto final e ponto de exclamação.
- C) Vírgula e ponto final.
- D) Vírgula e reticências.
- E) Ponto de interrogação e de exclamação.

### Texto F-02

#### Requentado

Um rapaz vai à padaria e pergunta se o salgado era de hoje.

- Não, é de ontem.
- E como faço pra comer o de hoje?
- Volte amanhã!

Internet: <https://www.dicionariopopular.com/piadas-curtas-engracadas/>

**4.** Realize a leitura atenta do **texto F-02**. Observe que na piada há palavras em destaque, são elas: hoje | ontem | amanhã, ambas pertencentes a uma mesma classe de palavras. As respectivas palavras são classificadas como:

- A) Verbo.
- B) Preposição.
- C) Adjetivo.
- D) Advérbio.
- E) Substantivo.

**5.** Acerca da finalidade textual, é correto afirmar que o **texto F-02** tem por objetivo:

- A) Alertar sobre hábitos alimentares.
- B) Satirizar todas as padarias.
- C) Tratar do descaso das padarias.
- D) Convencer o leitor a comer salgados.
- E) Provocar o humor no leitor.

## Texto F-03

### Hino de Cidade Gaúcha

Cidade Gaúcha, terra \_\_\_\_\_  
Tu és minha vida, tu és meu lar  
Cidade Gaúcha, terra da gente  
Tu és o presente, de quem em ti vem \_\_\_\_\_.

(...)  
Cidade Gaúcha, dos \_\_\_\_\_,  
Dos que aqui primeiro, vieram habitar.  
Cidade Gaúcha, dos povos sulinos,  
Depois nordestinos, e o restante a chegar.  
Ó Terra querida, nós te agradecemos  
Por tudo o que \_\_\_\_\_, que você nos deu  
Ó terra querida, de gente contente  
Este é o \_\_\_\_\_ dos filhos teus.

Internet:

<http://cidadegaucha.pr.gov.br/index.php?sessao=b054603368ncb0&id=1901>

**6.** O **texto F-03** trata-se do Hino de Cidade Gaúcha. Complete-o com as palavras que faltam e que irão preenchê-lo corretamente.

- A) temos | pioneiros | habitar | presente | querida
- B) habitar | presente | temos | pioneiros | querida
- C) pioneiros | habitar | querida | temos | presente
- D) querida | habitar | pioneiros | temos | presente
- E) presente | habitar | temos | querida | pioneiros

**7.** Releia o trecho “Dos que aqui primeiro, vieram **habitar**.”, do **texto F-03**. A palavra em destaque, **habitar**, nesse verso significa:

- A) construir.
- B) morar.
- C) passear.
- D) visitar.
- E) investir.

**8.** Analise as orações e complete com a preposição adequada.

- I. “Investia como cego \_\_\_\_\_ as paredes.” (Camilo Castelo Branco)
- II. “Quem me pôs no coração este amor \_\_\_\_\_ vida, senão tu?” (Machado de Assis)
- III. “Prostradas \_\_\_\_\_ o meu retrato, minhas irmãs rezavam.” (Aníbal Machado)

- A) contra | pela/ à | ante
- B) sob | na/ à | sobre
- C) contra | da | sob
- D) pelas | sobre | perante
- E) pelas | com | em

## Texto F-04



Internet: <https://www.jornalnh.com.br/cotidiano/2021/03/28/as-charges-de-gabriel-renner-e-sinovaldo.html>

**9.** Após realizar a leitura crítica do **texto F-04**, indique a alternativa que apresenta o propósito comunicativo, ou seja, a mensagem a ser transmitida por essa charge.

- A) Fazer uma crítica social sobre a importância do uso correto da máscara.
- B) Trata-se de uma crítica social acerca dos cuidados com as *fake news* sobre Covid-19.
- C) Indica que aqueles que mentem usam máscara de forma incorreta.
- D) O propósito comunicativo é declarar que todos estão sujeitos a contrair Covid-19, incluindo animais e objetos.
- E) Todas as alternativas apresentam propósitos comunicativos da charge em questão.

**10.** Leia novamente o **texto F-04**.

Ele finaliza com um sinal de pontuação chamado:

- A) Ponto de interrogação.
- B) Vírgula.
- C) Ponto e vírgula.
- D) Ponto de exclamação.
- E) Reticências.

## Matemática


**11.** Dada a seguinte operação com números inteiros:

$(-4) \cdot (-3)$

Seu resultado é:

- A) -12.
- B) 12.
- C) -7.
- D) 7.
- E) 1.

12. O perímetro e área do quadrado abaixo são, respectivamente:



3cm

- A) 12cm e 9cm.
- B) 9cm e 12cm.
- C) 9cm e 6cm.
- D) 12cm e 6cm.
- E) 6cm e 9cm.

13. São respectivamente MDC e MMC de 20 e 30:

- A) 60 e 10.
- B) 50 e 25.
- C) 40 e 20.
- D) 20 e 30.
- E) 10 e 15.

14. Dado o número 144, podemos dizer que sua raiz quadrada é:

- A) 10.
- B) 11.
- C) 12.
- D) 13.
- E) 14.

15. O conjunto de números chamados reais, que é representado pela letra R, é composto:

- A) Apenas pelos números inteiros.
- B) Pelos números naturais e racionais.
- C) Pelos números naturais, inteiros, racionais e irracionais.
- D) Apenas pelos números racionais e irracionais.
- E) Nenhuma das alternativas acima.

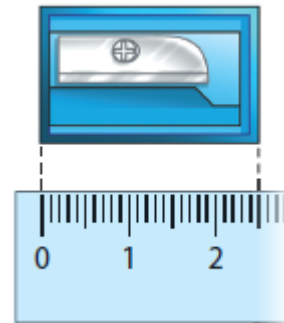
16. Carol foi ao supermercado e comprou os seguintes itens:



Sabendo que ela pagou com uma nota de R\$50,00, quanto ela recebeu de troco?

- A) R\$35,91.
- B) R\$15,00.
- C) R\$16,98.
- D) R\$12,36.
- E) R\$14,09.

17. Observe a imagem abaixo:

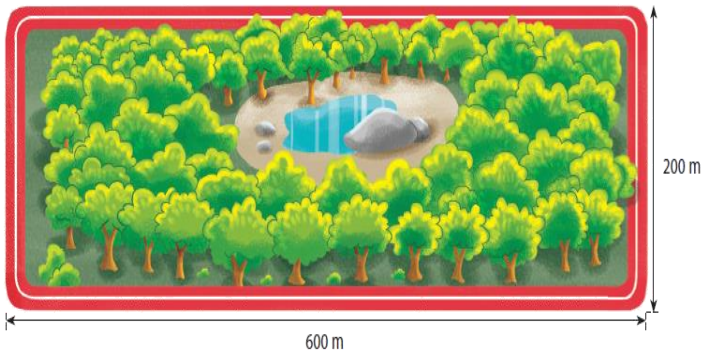


- A) O apontador mede 2 centímetros.
- B) O apontador mede 20 milímetros.
- C) O apontador mede 25 milímetros.
- D) O apontador mede 2 milímetros.
- E) O apontador mede 3 centímetros.

18. O senhor Carlos foi até a Loja Quero-Quero no centro de Cidade Gaúcha, onde ao realizar a compra à vista teria 10% de desconto. Ele decidiu então adquirir um refrigerador no valor de R\$1599,00. Caso decida realizar o pagamento à vista, o valor a ser pago será:

- A) R\$1439,10.
- B) R\$159,90.
- C) R\$1599,90.
- D) R\$1499,90.
- E) R\$1399,90.

**19.** Ao dar 3 voltas completas ao redor do parque abaixo, qual a distância será percorrida?



- A) 4,8 quilômetros.
- B) 48 quilômetros.
- C) 4,8 metros.
- D) 45 quilômetros.
- E) 4,5 quilômetros.

**20.** Sobre números naturais:

- I- Se um número inteiro é positivo, podemos dizer que é um número natural.
- II- Um conjunto de números naturais pode ser infinito.
- III- São exemplos de números naturais  $N = \{-1, -2, -3, -4\dots\}$ .
- IV- Todos os números naturais possuem sucessor e antecessor.

Estão corretas:

- A) Todas as alternativas.
- B) Apenas a sentença IV está correta.
- C) As alternativas I, II e III estão corretas.
- D) As alternativas I, II e IV estão corretas.
- E) Apenas a afirmação III está correta.