



Concurso: Processo Seletivo Simplificado nº 001/2021	Município: Cidade Gaúcha/PR
Cargo: Nível FUNDAMENTAL	Nº de Questões: 20

Língua Portuguesa

Texto F-01

E, quando você quer alguma coisa, todo o Universo conspira para que você realize seu desejo.

O Alquimista, Paulo Coelho, p. 39.

1. Identifique no **texto F-01** todos os vocábulos pertencentes à classe gramatical VERBO e assinale a única alternativa que contempla todos os verbos do texto.

- A) quando; desejo.
- B) quer; conspira; realize.
- C) quando; alguma; conspira.
- D) conspira; realize.
- E) quer; Universo; desejo.

2. Coloque em ordem alfabética as seguintes palavras, que foram retiradas do **texto F-01**:

COISA | ALGUMA | UNIVERSO | DESEJO |
REALIZE

- A) Coisa | alguma | universo | desejo | realize.
- B) Universo | alguma | desejo | coisa | realize.
- C) Alguma | coisa | desejo | realize | universo.
- D) Desejo | coisa | realize | universo | alguma.
- E) Alguma | coisa | desejo | universo | realize.

3. Releia o **texto F-01**.

Quais sinais de pontuação foram usados nesse trecho?

- A) Vírgula e ponto final.
- B) Somente ponto final.
- C) Ponto final e ponto de exclamação.
- D) Vírgula e reticências.
- E) Ponto de interrogação e de exclamação.

Texto F-02

Requentado

Um rapaz vai à padaria e pergunta se o salgado era de hoje.

- Não, é de ontem.
- E como faço pra comer o de hoje?
- Volte amanhã!

Internet: <https://www.dicionariopopular.com/piadas-curtas-engracadas/>

4. Realize a leitura atenta do **texto F-02**. Observe que na piada há palavras em destaque, são elas: hoje | ontem | amanhã, ambas pertencentes a uma mesma classe de palavras. As respectivas palavras são classificadas como:

- A) Verbo.
- B) Preposição.
- C) Adjetivo.
- D) Substantivo.
- E) Advérbio.

5. Acerca da finalidade textual, é correto afirmar que o **texto F-02** tem por objetivo:

- A) Alertar sobre hábitos alimentares.
- B) Provocar o humor no leitor.
- C) Tratar do descaso das padarias.
- D) Convencer o leitor a comer salgados.
- E) Satirizar todas as padarias.

Texto F-03

Hino de Cidade Gaúcha

Cidade Gaúcha, terra _____
Tu és minha vida, tu és meu lar
Cidade Gaúcha, terra da gente
Tu és o presente, de quem em ti vem _____.

(...)

Cidade Gaúcha, dos _____,
Dos que aqui primeiro, vieram habitar.
Cidade Gaúcha, dos povos sulinos,
Depois nordestinos, e o restante a chegar.
Ó Terra querida, nós te agradecemos
Por tudo o que _____, que você nos deu
Ó terra querida, de gente contente
Este é o _____ dos filhos teus.

Internet:

<http://cidadegaucha.pr.gov.br/index.php?sessao=b054603368ncb0&id=1901>

6. O **texto F-03** trata-se do Hino de Cidade Gaúcha. Complete-o com as palavras que faltam e que irão preenchê-lo corretamente.

- A) querida | habitar | pioneiros | temos | presente
- B) habitar | presente | temos | pioneiros | querida
- C) pioneiros | habitar | querida | temos | presente
- D) temos | pioneiros | habitar | presente | querida
- E) presente | habitar | temos | querida | pioneiros

7. Releia o trecho “Dos que aqui primeiro, vieram **habitar**.”, do **texto F-03**. A palavra em destaque, **habitar**, nesse verso significa:

- A) construir.
- B) passear.
- C) morar.
- D) visitar.
- E) investir.

8. Analise as orações e complete com a preposição adequada.

- I. “Investia como cego _____ as paredes.” (Camilo Castelo Branco)
- II. “Quem me pôs no coração este amor _____ vida, senão tu?” (Machado de Assis)
- III. “Prostradas _____ o meu retrato, minhas irmãs rezavam.” (Aníbal Machado)

- A) pelas | com | em
- B) sob | na/ à | sobre
- C) contra | da | sob
- D) pelas | sobre | perante
- E) contra | pela/ à | ante

Texto F-04



Internet: <https://www.jornalnh.com.br/cotidiano/2021/03/28/as-charges-de-gabriel-renner-e-sinovaldo.html>

9. Após realizar a leitura crítica do **texto F-04**, indique a alternativa que apresenta o propósito comunicativo, ou seja, a mensagem a ser transmitida por essa charge.

- A) Trata-se de uma crítica social acerca dos cuidados com as *fake news* sobre Covid-19.
- B) Fazer uma crítica social sobre a importância do uso correto da máscara.
- C) Indica que aqueles que mentem usam máscara de forma incorreta.
- D) O propósito comunicativo é declarar que todos estão sujeitos a contrair Covid-19, incluindo animais e objetos.
- E) Todas as alternativas apresentam propósitos comunicativos da charge em questão.

10. Leia novamente o **texto F-04**.

Ele finaliza com um sinal de pontuação chamado:

- A) Ponto de interrogação.
- B) Vírgula.
- C) Ponto e vírgula.
- D) Reticências.
- E) Ponto de exclamação.

Matemática

11. São respectivamente MDC e MMC de 20 e 30:

- A) 60 e 10.
- B) 50 e 25.
- C) 40 e 20.
- D) 20 e 30.
- E) 10 e 15.

12. Sobre números naturais:

- I- Se um número inteiro é positivo, podemos dizer que é um número natural.
- II- Um conjunto de números naturais pode ser infinito.
- III- São exemplos de números naturais $N = \{-1, -2, -3, -4, \dots\}$.
- IV- Todos os números naturais possuem sucessor e antecessor.

Estão corretas:

- A) Todas as alternativas.
- B) Apenas a sentença IV está correta.
- C) As alternativas I, II e III estão corretas.
- D) As alternativas I, II e IV estão corretas.
- E) Apenas a afirmação III está correta.

13. Dada a seguinte operação com números inteiros:

$$(-4) \cdot (-3)$$

Seu resultado é:

- A) -12.
- B) 12.
- C) -7.
- D) 7.
- E) 1.

14. O conjunto de números chamados reais, que é representado pela letra R, é composto:

- A) Apenas pelos números inteiros.
- B) Pelos números naturais e racionais.
- C) Pelos números naturais, inteiros, racionais e irracionais.
- D) Apenas pelos números racionais e irracionais.
- E) Nenhuma das alternativas acima.

15. Dado o número 144, podemos dizer que sua raiz quadrada é:

- A) 10.
- B) 11.
- C) 12.
- D) 13.
- E) 14.

16. Carol foi ao supermercado e comprou os seguintes itens:



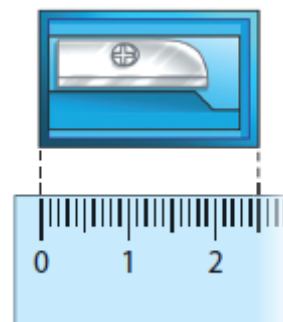
Sabendo que ela pagou com uma nota de R\$50,00, quanto ela recebeu de troco?

- A) R\$35,91.
- B) R\$15,00.
- C) R\$16,98.
- D) R\$14,09.
- E) R\$12,36.

17. O senhor Carlos foi até a Loja Quero-Quero no centro de Cidade Gaúcha, onde ao realizar a compra à vista teria 10% de desconto. Ele decidiu então adquirir um refrigerador no valor de R\$1599,00. Caso decida realizar o pagamento à vista, o valor a ser pago será:

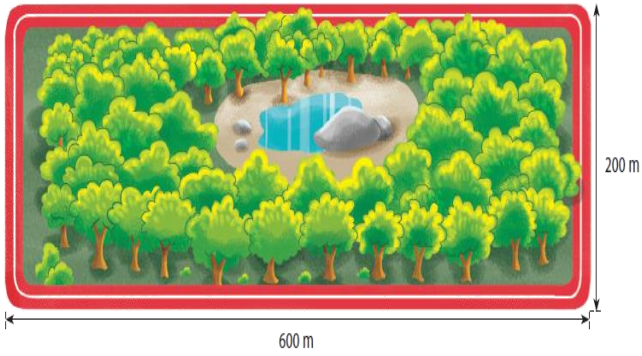
- A) R\$1439,10.
- B) R\$159,90.
- C) R\$1599,90.
- D) R\$1499,90.
- E) R\$1399,90.

18. Observe a imagem abaixo:




- A) O apontador mede 2 centímetros.
- B) O apontador mede 20 milímetros.
- C) O apontador mede 25 milímetros.
- D) O apontador mede 2 milímetros.
- E) O apontador mede 3 centímetros.

19. Ao dar 3 voltas completas ao redor do parque abaixo, qual a distância será percorrida?



- A) 48 quilômetros.
- B) 4,8 metros.
- C) 45 quilômetros.
- D) 4,5 quilômetros.
- E) 4,8 quilômetros.

20. O perímetro e área do quadrado abaixo são, respectivamente:



- A) 12cm e 9cm.
- B) 9cm e 12cm.
- C) 9cm e 6cm.
- D) 12cm e 6cm.
- E) 6cm e 9cm.