



Concurso: Processo Seletivo Simplificado nº 001/2021	Município: Cidade Gaúcha/PR
Cargo: Nível Médio	Nº de Questões: 20

LÍNGUA PORTUGUESA

Texto M-01



Internet: <https://br.pinterest.com/pin/68740866779/>

1. Com base em seus conhecimentos gramaticais, após a leitura atenta e a análise do **texto M-01**, julgue as alternativas e assinale a única que está INCORRETA:

- A) “Deus, padaria e caminhada” são classificados como pronomes, ou seja, é a classe de palavras responsável por nomear os seres, objetos, ações, lugares, etc.
- B) É correto afirmar que “voltar e passar” são verbos que estão no infinitivo, ou seja, não foram conjugados.
- C) A palavra “tá” está escrita de forma incorreta, sendo que sua grafia correta é “está”. Seu uso, porém, justifica-se nesta obra por sua informalidade e por retratar a fala.
- D) A parte verbal e não verbal da obra se complementam, favorecendo o humor e a mensagem a ser transmitida.
- E) A conjunção e possui a ideia de adição, o que favorece a ironia presente na obra e contribui com o seu humor.

2. No contexto do **texto M-01**, o sinal de pontuação chamado reticências (...) tem por finalidade:

- A) Indicar a suspensão de pensamentos.
- B) Mostrar que a fala foi interrompida por outro personagem.
- C) Indicar hesitação na fala e passar ideia de continuidade de pensamento.
- D) Sinalizar que uma parte importante do texto foi suprimida.
- E) Todas as alternativas estão incorretas.

3. Analise os períodos, com atenção especial às preposições em destaque.

- I. Eu sou absolutamente contra qualquer forma de preconceito.
- II. Somos feitos de amor!
- III. Viajarei de avião com minhas amigas.

No que diz respeito ao sentido das orações, qual a relação que as referidas preposições estabelecem?

- A) Instrumento; origem; direção e posse.
- B) Modo; posse; meio e companhia.
- C) Especialidade; falta; direção e oposição.
- D) Oposição; matéria; meio e companhia.
- E) Finalidade; matéria; posse e falta.

4. Observe os versos da canção Quase Sem Querer, banda Legião Urbana: “Tenho andado distraído / Impaciente e indeciso”. As palavras em destaque formam uma locução verbal, portanto em sua composição há presença de:

- A) verbo auxiliar e verbo principal.
- B) substantivo e verbo principal.
- C) verbo de ligação.
- D) verbo auxiliar e adjetivo.
- E) verbo auxiliar e verbo de ligação.



Internet:

<https://br.pinterest.com/pin/852447035687806023/>

5. O texto M-02 menciona seis pessoas que sofrem com a crise econômica no Brasil: eu, tu, ele, nós, vós e eles. Analise:

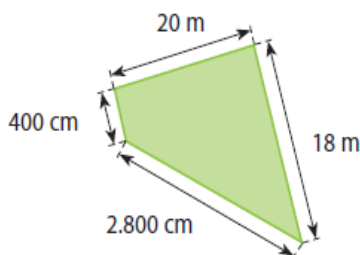
- I. São pronomes pessoais do caso reto.
- II. São pronomes pessoais oblíquos.
- III. São pronomes indefinidos.
- IV. Eu, tu e ele(a) são pessoas do singular.
- V. Nós, vós e eles(as) são pessoas do plural.

Sobre os pronomes utilizados, é correto o que se afirma em:

- A) I apenas.
- B) I, IV e V.
- C) II, IV e V.
- D) IV e V.
- E) Todas as alternativas estão corretas.

MATEMÁTICA

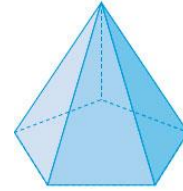
6. Observe a figura a seguir:



Podemos dizer que seu perímetro é:

- A) 70m.
- B) 70cm.
- C) 700m.
- D) 7cm.
- E) 7m.

7.

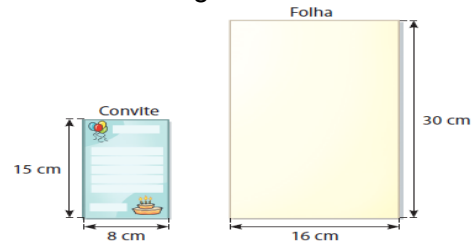


- I- A figura é uma pirâmide.
- II- A figura é plana.
- III- A figura possui 5 vértices e 6 arestas.
- IV- A figura possui 6 faces, das quais 5 são triangulares e 1 pentagonal.

Analise as sentenças acima e assinale:

- A) Todas as sentenças estão corretas.
- B) Todas as afirmações estão incorretas.
- C) As alternativas I e IV estão corretas.
- D) As alternativas I, II e III estão corretas.
- E) As alternativas II, III e IV estão corretas.

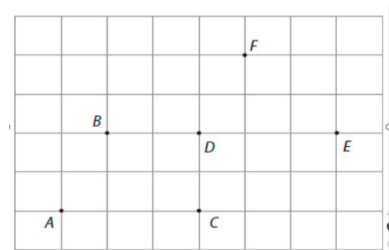
8. Priscila precisa fazer convites, como representados a seguir:



Para confeccionar 32 convites, serão necessárias:

- A) 4 folhas.
- B) 5 folhas.
- C) 6 folhas.
- D) 7 folhas.
- E) 8 folhas.

9. Siga as orientações a seguir e verifique a figura:



Com os segmentos de reta \overline{AB} , \overline{AC} , \overline{AD} , \overline{BC} , \overline{BF} , \overline{CE} , \overline{DF} , \overline{DE} e \overline{EF} .

A figura formada será:

- A) Um paralelepípedo.
- B) Uma pirâmide.
- C) Um cubo.
- D) Um prisma.
- E) Uma esfera.

10. O quadrado de um número, somado ao seu cubo, subtraindo 10, é igual a 0. Esse número é:

- A) 1.
- B) 2.
- C) 3.
- D) 4.
- E) 5.

CONHECIMENTOS GERAIS

11. Leia e complete com a alternativa adequada: “Cidade Gaúcha, assim como a maioria das cidades do noroeste do Paraná surgiu do movimento colonizador em busca de terras para o plantio de _____”.

Internet:

<http://cidadegaucha.pr.gov.br/index.php?sessao=b054603368ncb0&id=1899>

- A) algodão.
- B) cana-de-açúcar.
- C) pasto (agropecuária).
- D) milho.
- E) café.

12. A Secretaria Municipal de Saúde de Cidade Gaúcha tem por missão “Servir à população assegurando o seu bem-estar, através das políticas públicas de saúde, com foco na promoção, prevenção, proteção e reabilitação, garantindo o acesso humanizado dos usuários aos serviços de saúde no Município de Cidade Gaúcha, bem como a participação social”. A partir dessa premissa e com base em seus conhecimentos prévios, assinale a única alternativa que NÃO corresponde aos programas de atuação da referida Secretaria de Saúde.

Internet:

<http://cidadegaucha.pr.gov.br/index.php?sessao=b054603368svb0&id=3654>
(com adaptações).

- A) Programa de saúde da mulher.
- B) Programa de hanseníase.
- C) Programa de controle do tabagismo.
- D) Programa de DST/AIDS.
- E) Programa de controle da hipertensão arterial sistêmica e diabetes.

Texto de referência para a questão 13

Mulheres ganham 77,7% do salário dos homens no Brasil, diz IBGE.

Para cargos como gerentes e diretores, a diferença salarial entre homens e mulheres é ainda maior.

Por Mylena Guedes, da CNN, no Rio

04 de março de 2021, às 11:27 | Atualizado 04 de março de 2021, às 15:54

As mulheres receberam 77,7% do salário dos homens em 2019. A diferença é ainda mais elevada em cargos de maior rendimento, como diretores e gerentes. Nesse grupo, as mulheres ganharam apenas 61,9% do rendimento dos homens. Os dados são de uma publicação do IBGE (Instituto Brasileiro de Geografia e Estatística), divulgada nesta quinta-feira (4).

A pesquisa, que analisa as condições de vida das brasileiras, aponta que a maior desigualdade salarial está na região Sudeste e que apenas 34,7% dos cargos gerenciais do país eram ocupados pelo sexo feminino.

Apesar da disparidade, mais mulheres tinham diploma da faculdade. Na faixa-etária entre 25 e 34 anos, 25,1% das mulheres concluíram o nível superior, contra 18,3% dos homens, uma diferença de 6,8 pontos percentuais. Contudo, nas instituições de graduação, menos da metade (46,8%) dos professores eram mulheres. Ainda que pouco, o número melhorou nos últimos anos. Em 2013, eram 43,2% docentes nas faculdades.

Na graduação, elas são minoria nos cursos de ciências exatas e produção. No curso de engenharia, por exemplo, correspondem a menos de um quarto (21,6%) dos alunos. Já nas áreas relacionadas ao cuidado e bem-estar, como serviço social, a participação feminina é muito maior, de quase 90%.

Se, por um lado, as mulheres são mais escolarizadas, por outro, têm menor inserção no mercado de trabalho e na vida pública, permanecendo em situação de vulnerabilidade. Apenas 54,6% das mulheres de 25 a 49 anos com crianças de até três anos de idade estavam empregadas em 2019, enquanto a porcentagem dos homens na mesma condição é de 89,2%. Ou seja, uma diferença de mais de 30 pontos percentuais.

Em lares sem crianças, o nível de ocupação foi de 67,2% para as mulheres e 83,4% para os homens. Além da disparidade em relação ao gênero, a pesquisa aponta, ainda, a desigualdade racial. Isso porque as mulheres pretas ou pardas com crianças de até 3 anos de idade tem o menor nível de ocupação, de 49,7%.

13. De acordo com o texto lido estão corretas todas as alternativas, **EXCETO**:

- A) Antes de 2013, mais da metade (53,2%) dos professores de instituições de graduação eram homens.
- B) A pesquisa aponta que a região com maior desigualdade salarial é Sudeste.
- C) A desigualdade não ocorre somente em relação ao gênero, mas também com o fator racial.
- D) A predominância de mulheres é maior nos cursos relacionados ao cuidado e bem-estar, quase 100%, em contrapartida aos cursos de ciências exatas e produção, pouco mais de 25%.
- E) Segundo o IBGE, nos cargos de direção e gestão as mulheres ganharam apenas 61,9% do rendimento dos homens.

Texto de referência para a questão 14



Internet: <https://br.pinterest.com/pin/535998793146043718/>

14. Qual questão ambiental é colocada em evidência pela charge?

- A) Desmatamento.
- B) Aquecimento global.
- C) Efeito estufa.
- D) Poluição.
- E) Buracos na camada de ozônio.

15. “É um benefício financeiro concedido pelo Governo Federal destinado às pessoas que receberam Auxílio Emergencial e Auxílio Emergencial Extensão, e que atendiam aos critérios dos Programas em dezembro de 2020, e tem por objetivo fornecer proteção emergencial no período de enfrentamento à crise causada pela pandemia do Coronavírus - COVID 19.”

Internet: <https://www.caixa.gov.br/> (com adaptações)

O texto lido aborda sobre qual programa do Governo Federal?

- A) Benefício de Prestação Continuada (BPC).
- B) Auxílio Emergencial 2021.
- C) Bolsa Família.
- D) FGTS Emergencial.
- E) Garantia-Safra.

INFORMÁTICA

16. Baseado no seu conhecimento de informática, assinale qual dos softwares a seguir não se encaixa na categoria de Navegador de Internet (Web Browser)?

- A) Internet Explorer.
- B) Microsoft Edge.
- C) Google Chrome.
- D) Microsoft Outlook.
- E) Mozilla Firefox.

17. Imagine que você está editando um novo relatório para o seu chefe usando o processador de texto Microsoft Word instalado em seu computador. No final do seu trabalho infelizmente o seu mouse começa a apresentar falhas e você precisará usar apenas atalhos do teclado para cumprir algumas tarefas faltantes. São elas: i) Desfazer a última alteração que você fez por engano; ii) Colar uma palavra específica à partir da área de transferência e iii) Imprimir o documento.

Quais serão os atalhos do teclado usados, respectivamente, para realizar as tarefas faltantes i, ii e iii?

- A) CTRL + C, CTRL + G e CTRL + O
- B) CTRL + I, CTRL + C e CTRL + W
- C) CTRL + O, CTRL + U e CTRL + C
- D) CTRL + K, CTRL + B e CTRL + A
- E) CTRL + Z, CTRL + V e CTRL + P

18. Qual das alternativas abaixo melhor define o que é o formato de arquivo PDF (.pdf)?

- A) É um formato utilizado para exibir e/ou compartilhar documentos, independentemente de software, hardware ou sistema operacional.
- B) É um formato utilizado para compartilhar programas executáveis, independentemente de software, hardware ou sistema operacional.
- C) É um formato utilizado para exibir e/ou compartilhar documentos, que funcionam unicamente em um software (o Adobe Acrobat Reader) e no sistema operacional Windows.
- D) É um formato utilizado para exibir e/ou compartilhar planilhas eletrônicas editáveis, independentemente de software, hardware ou sistema operacional.
- E) É um formato utilizado para exibir e/ou compartilhar planilhas eletrônicas editáveis, que funcionam unicamente em um software (o Adobe Acrobat Reader) e no sistema operacional Windows.

19. Leia o texto a seguir: "Quando o _____ é ligado, entra em ação um programa conhecido como _____, que é o programa responsável por administrar o funcionamento de todos os componentes de _____ (equipamentos) e gerencia o trabalho dos _____ (programas)."

Baseado em seus conhecimentos, os termos que melhor preenchem as lacunas, respectivamente, são:

- A) CPU, Windows, BIOS, dispositivos.
 - B) Computador, sistema operacional, hardware, softwares.
 - C) Gabinete, Windows, rede, sistemas operacionais.
 - D) PC, Mozilla, BIOS, editores de texto.
 - E) Micro, GNU/Linux, software, hardwares.
-

20. No Windows, a tela padrão é chamada de Área de Trabalho, ou em inglês *desktop*, pois representa o local onde você organiza seu material para trabalhar. Assinale a alternativa que melhor corresponde aos elementos que podemos encontrar em uma Área de Trabalho padrão:

- A) Ícones; Barra de tarefas e Lixeira.
 - B) Relógio; Pasta System32 e Configurações Avançadas.
 - C) Lixeira; Desfragmentador de Disco e Windows Explorer.
 - D) Mozilla Thunderbird; Configuração de luz noturna e menu de ferramentas.
 - E) Terminal de comando; lançador do Google.com e Microsoft Word
-